


**STAREJŠI PIONIRJI/
MLADINCI**

**TOPOGRAFSKI
ZNAKI**


1. Kateri topografski znak predstavlja **kapelo**?



A



B



C



D

2. Kateri topografski znak predstavlja **podzemno jamo**?



A



B



C



D

3. Kateri topografski znak predstavlja **razgledni stolp**?



A



B



C



D

4. Kateri topografski znak predstavlja **cerkev**?




A



B



C



D

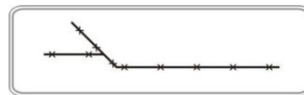
5. Kateri topografski znak predstavlja **žično ograjo**?



A



B



C



D


6. Kateri topografski znak predstavlja **stezo, pešpot**?



A



B



C




D


7. Kateri topografski znak predstavlja **kozolec**?




A



B

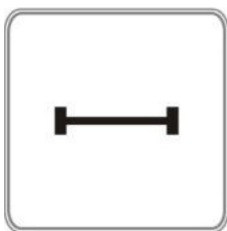


C



D

8. Kateri topografski znak predstavlja **grad**?




A



B



C



D

9. Kaj predstavlja topografski znak na sliki?



Reko

Daljico

Stezo

Kolovoz

A

B

C

D

10. Kaj predstavlja topografski znak na sliki?



Kozolec

Žičnico

Viadukt

Stezo


A

B

C

D

11. Kaj predstavlja topografski znak na sliki?



Razgledni stolp

Kapelo

Kozolec

Kolibo

A

B

C

D

12. Kaj predstavlja topografski znak na sliki?



Podzemno jamo

Koto

Širino

Dolžino


A

B

C

D

12. Kaj predstavlja topografski znak na sliki?



Kozolec

Palico

Cesto

Kolovoz


A

B

C

D

13. Kaj predstavlja topografski znak na sliki?



Grad

Kapelo

Spomenik

Kolibo


A

B

C

D

14. Kaj predstavlja topografski znak na sliki?



Cerkev

Spomenik

Kolibo

Kapelo

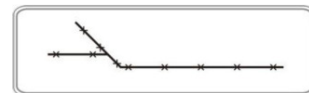
A

B

C

D

15. Kaj predstavlja topografski znak na sliki?



Križišče

Žično ograjo

Stezo

Cesto

A

B

C

D