

**MLAJŠI PIONIRJI**

**TOPOGRAFSKI  
ZNAKI**

1. Kateri topografski znak predstavlja **grad**?



A



B



C



D

2. Kateri topografski znak predstavlja **spomenik**?




A



B



C




D

3. Kateri topografski znak predstavlja **razgledni stolp**?



A



B





C



D

4. Kateri topografski znak predstavlja **cerkev**?



A

B

C

D

5. Kateri topografski znak predstavlja **kapelo**?



A



B



C



D


5. Kateri topografski znak predstavlja **kolovoz**?



A



B



C



D


6. Kateri topografski znak predstavlja **stezo, pešpot**?



A



B



C




D

7. Kateri topografski znak predstavlja **kozolec**?




A



B




C



D

8. Kateri topografski znak predstavlja **grad**?



A

B

C

D

9. Kaj predstavlja topografski znak na sliki?



Višino

Daljico

Črto

Kolovoz

A

B

C

D

10. Kaj predstavlja topografski znak na sliki?



Kozolec

Žičnico

Reko

Stezo

A

B

C

D

11. Kaj predstavlja topografski znak na sliki?



Razgledni stolp

Kapelo

Kozolec

Stan

A

B

C

D

12. Kaj predstavlja topografski znak na sliki?



Grad

Kolibo

Spomenik

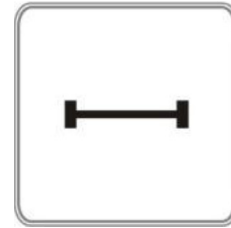
Kozolec

A

B

C

D



12. Kaj predstavlja topografski znak na sliki?

**Kozolec**

**Palico**

**Cesto**


**Kolovoz**

**A**

**B**

**C**

**D**



13. Kaj predstavlja topografski znak na sliki?

**Grad**

**Kapelo**

**Spomenik**


**Kolibito**

**A**

**B**

**C**

**D**



14. Kaj predstavlja topografski znak na sliki?

**Cerkev**

**Spomenik**

**Kolibito**

**Kapelo**

**A**

**B**

**C**

**D**